

**SECTION-I****6 × ½ = 3 marks****NOTE: (i) Answer all the questions. (ii) Each question carries ½ mark.**

1. Identify the wrong pair.

Town - urban areas having population between 5000 to 1 lakh

City - urban areas having population between 1 lakh to 1 million

Mega city - cities having population between one million to 10 million

2. Complete the second pair with the help of the relation between the items in the first pair

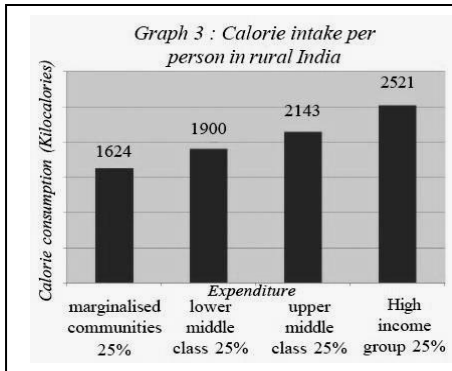
Water and soil characteristics of a place : Site ::

Connection with other places : ?

3. Which option in the box 'B' best signifies the graph in the box 'A'

Box-A

Box-B



- A. Large proportion of the population in rural India are not able to get the recommended calorie intake
- B. The well-off are consuming food less than the recommended calorie standard
- C. 1/4<sup>th</sup> of the rural population are not able to get the recommended calorie intake

4. The first state that had shifted 100% to organic farming was \_\_\_\_\_
5. What is the most common reason for migration of females?
6. The Act that was made by the government of India to legalise peoples' Right to food \_\_\_\_\_

**SECTION –II****4×1=4 marks****NOTE: (i) Answer all the questions. (ii) Each question carries 1 mark.**

7. Define environment's source function.
8. What are the important aspects of food security?
9. What is called Arab spring?
10. Promote the idea of sustainable development with two slogans

**SECTION –III****3×2=6 marks****NOTE: (i) Answer all the questions. (ii) Each question carries 2 mark.**

11. Differentiate Physical capital and Working capital?
12. Fair globalisation would create opportunities for all, and also ensure that the benefits of globalisation are shared better. How can government make this possible?
13. "Though there has been an increase in urbanisation, the necessity of providing basic infrastructure that can support this growth is missing". comment.

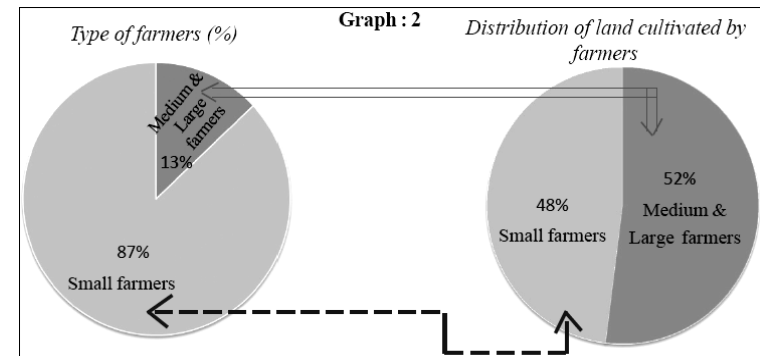
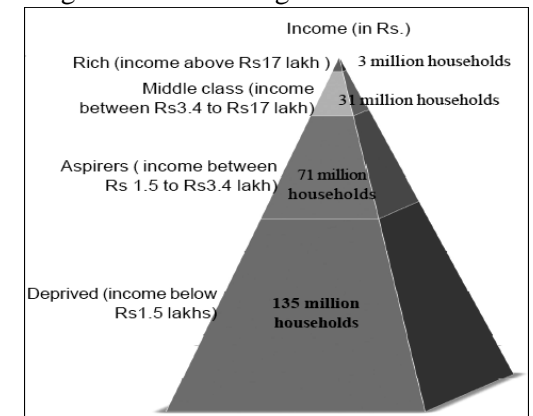
**SECTION –IV****3×4=12 marks****NOTE: (i) Answer all the questions. Each question carries 4 marks. There is internal choice for each question.**

14. A) Explain the different impacts of globalisation on India? (OR)  
B) How does migration effect the living conditions of migrants and their families?

15. Write your observations on **any one** of the following graphs

A) Distribution of households in India based on annual income (2010 survey)

(OR)



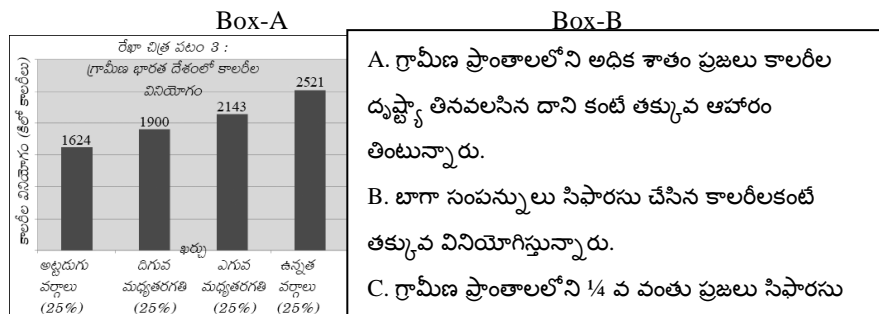
*B) Distribution of farmers and the land they cultivate in India*

16. Locate the following places on the outline map of India
1. The largest city in India      2. The strait that separates India Sri Lanka
3. Aravali mountains              4. Manipur state (OR)
1. The plateau that is rich in mineral resources      2. Annaimudi peak
3. The state where Chipko Andolan started      4. River Narmada

**సెక్షన్-I**

సూచన: అన్ని ప్రశ్నలకు జవాబులు వ్రాయుము. ప్రతి ప్రశ్నకు 1/2 మార్కు ఇవ్వబడును.  $6 \times \frac{1}{2} = 3$  మా

1. సరికాని జతను గుర్తించుము  
పట్టణం - 5000 నుంచి 1 లక్ష మధ్య గల జనాభా ఉన్న పట్టణ ప్రాంతాలు  
నగరం - ఒక లక్ష - పది లక్షల మధ్య జనాభా ఉన్న పట్టణ ప్రాంతాలు  
మహా నగరం - పది లక్షలు - కోటి మధ్య జనాభా ఉన్న నగరాలు
2. మొదటి జతలోని అంశాల మధ్య గల సంబంధం ఆధారంగా రెండవ జతను పూరించండి  
ఒక ప్రదేశం యొక్క నీటి అంశాలు, నేల రకాలు : ప్రదేశం :: ఇతర ప్రదేశాలతో సంబంధాలు : ?
3. Box - B లోని ఏ ఐచ్ఛికం (Option) Box-A లోని గ్రాఫ్ ను సరిగ్గా సూచిస్తుంది?



4. 100% సేంద్రీయ వ్యవసాయానికి మారిన మొదటి రాష్ట్రం \_\_\_\_\_
5. ఆడవాళ్ళలో వలస వెళ్ళటానికి ప్రధాన కారణం ఏమిటి?
6. ప్రజలకు ఉన్న ఆహారాన్ని పొందే హక్కుకు చట్టబద్ధత కల్పిస్తూ భారత ప్రభుత్వం చేసిన చట్టం \_\_\_\_\_

**సెక్షన్ -II**

సూచన: అన్ని ప్రశ్నలకు జవాబులు వ్రాయుము. ప్రతి ప్రశ్నకు 1 మార్కు ఇవ్వబడును.  $4 \times 1 = 4$  మా

7. 'పర్యావరణ వనరుల సరఫరా విధి' ని నిర్వచించండి
8. ఆహార భద్రత లోని ముఖ్యమైన అంశాలేవి?
9. 'అరబ్ వసంతం' అని దేనిని పిలువబడింది?
10. 'సుస్థిర అభివృద్ధి' భావనను ప్రబోధించే రెండు నినాదాలు రాయండి

**సెక్షన్ -III**

సూచన: అన్ని ప్రశ్నలకు జవాబులు వ్రాయుము. ప్రతి ప్రశ్నకు 2 మార్కులు ఇవ్వబడును.  $3 \times 2 = 6$  మా

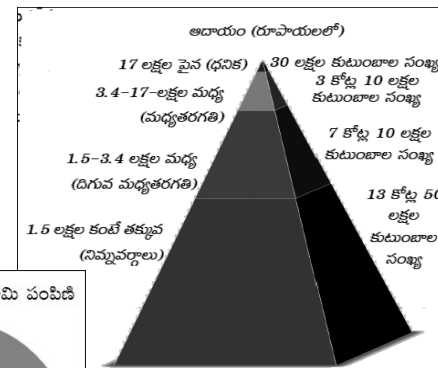
11. భౌతిక పెట్టుబడి మరియు నిర్వహణ పెట్టుబడి మధ్య భేదాన్ని రాయండి.
12. న్యాయమైన ప్రపంచీకరణ అందరికీ అవకాశాలు సృష్టిస్తుంది. దాని ప్రయోజనాలు మరింత బాగా పంచుకోబడతాయి. దీనిని ప్రభుత్వం ఎలా సాధ్యం చేయగలదు?
13. "పట్టణీకరణ" పెరుగుతున్నప్పటికీ ఇందుకు అనుగుణంగా అవసరమైన మౌలిక సదుపాయాలు కల్పించబడటం లేదు." వ్యాఖ్యానించుము.

**సెక్షన్ -IV**

సూచన: అన్ని ప్రశ్నలకు జవాబులు వ్రాయుము. ప్రతి ప్రశ్నకు 4 మార్కులు ఇవ్వబడును. ప్రతి ప్రశ్నకు 3 ఉత్తరత ఎంపిక కలదు.  $3 \times 4 = 12$  మా

14. భారతదేశంపై ప్రపంచీకరణ ప్రభావాన్ని వివరించండి. (లేదా)  
వలస వెళ్ళడం వలనదారుల మరియు వారి కుటుంబాల జీవనంపై ఎటువంటి ప్రభావాన్ని చూపిస్తుంది?
15. భారతదేశ పటంలో క్రింది ప్రదేశాలను గుర్తించండి.  
1. భారతదేశంలో అతిపెద్ద నగరం 2. భారతదేశం నుండి శ్రీలంకను వేరు చేస్తున్న జలసంధి  
3. ఆరావళి పర్వతాలు 4. మణిపూర్ రాష్ట్రం (లేదా)  
1. ఖనిజవనరులు సమృద్ధిగా గల పీఠభూమి 2. అనైముడి శిఖరం  
3. చిప్కో ఉద్యమం ప్రారంభమైన రాష్ట్రం 4. నర్మదా నది
16. క్రింది గ్రాఫులను పరిశీలించి ఏదేని ఒక దాని గురించి మీ పరిశీలనలను రాయండి.

భారతదేశంలో వార్షిక ఆదాయం ఆధారంగా కుటుంబాల పంపిణీ (లక్షలలో) (2010 సర్వే) (లేదా)



భారతదేశంలో రైతులు మరియు సాగుభూమి పంపిణీ

