


I. Answer the following questions in one or two words.

1. How many square meters are equal to one hectare?
2. DMK : Tamil Nadu :: AGP: _____ (Complete the second one)
3. Telecom revolution in India was initiated by _____
4. Identify the person given in the adjacent picture.



4 x 1/2 = 2

4 x 1 = 4

II. Answer the following questions in one or two sentences.

5. What is multiple cropping?
6. Arrange the following incidents in chronological order
 - i) States Reorganization Act
 - ii) First General elections
7. What is a coalition government?
8. Write any two slogans on importance of Voting.

iii) Bangladesh war

III. Answer the following questions.

3 x 2 = 6

9. Write any four non-farming activities of your locality.
10. "Three types of land reforms were contemplated during First Five year Plan". What were they?
11. Read the following timeline and answer the questions

Economic Liberalisation	1990
Demolition of Babri Masjid	1992
National Front Government with Deva Gowda and IK Gujral as PMs	1996
NDA government led by AB Vajpayee	1998

- i. When was the economic liberalisation started?
- ii. Who led the NDA government?

IV. Answer the following questions using internal choice.

2 x 4 = 8

12. In what ways was the Emergency period a set back to the Indian democracy?
Identify the major changes in party system during the second phase of Independence. (OR)
13. Mark the following places in the world map: Sri Lanka, Indonesia, Nigeria, Mediterranean Sea (OR)
Mark the following places on the outline map of India: Punjab, Kolkata, Assom, Lakshadweep islands

I. Answer the following questions in one or two words.

1. How many square meters are equal to one hectare?
2. DMK : Tamil Nadu :: AGP: _____ (Complete the second one)
3. Telecom revolution in India was initiated by _____
4. Identify the person given in the adjacent picture.



4 x 1/2 = 2

4 x 1 = 4

II. Answer the following questions in one or two sentences.

5. What is multiple cropping?
6. Arrange the following incidents in chronological order
 - i) States Reorganization Act
 - ii) First General elections
7. What is a coalition government?
8. Write any two slogans on importance of Voting.

iii) Bangladesh war

III. Answer the following questions.

3 x 2 = 6

9. Write any four non-farming activities of your locality.
10. "Three types of land reforms were contemplated during First Five year Plan". What were they?
11. Read the following timeline and answer the questions

Economic Liberalisation	1990
Demolition of Babri Masjid	1992
National Front Government with Deva Gowda and IK Gujral as PMs	1996
NDA government led by AB Vajpayee	1998

- i. When was the economic liberalisation started?
- ii. Who led the NDA government?


IV. Answer the following questions using internal choice.

2 x 4 = 8

12. In what ways was the Emergency period a set back to the Indian democracy?
Identify the major changes in party system during the second phase of Independence. (OR)
13. Mark the following places in the world map: Sri Lanka, Indonesia, Nigeria, Mediterranean Sea (OR)
Mark the following places on the outline map of India: Punjab, Kolkata, Assom, Lakshadweep islands

అ) క్రింది ప్రశ్నలకు ఒక పదం లేదా ఒక వాక్యంలో పమాధానమిమ్ము. ఒక్కొక్క ప్రశ్నకు 1/2 మార్కు.

1. ఒక హెక్టారు ఎన్ని చదరపు మీటర్లకు సమానం? 2. ఇవ్వబడిన చిత్రంలోని వ్యక్తిని గుర్తించండి.
3. DMK : తమిళనాడు :: AGP : _____ . (ఖాళిని పూర్తి చెయ్యండి)
4. భారతదేశంలో టెలికమ్యూనికేషన్ విప్లవం ప్రారంభించిన వారు _____



4 x 1/2 = 2

ఆ) క్రింది ప్రశ్నలకు ఒక్క వాక్యంలో సమాధానమిమ్ము. ఒక్కొక్క ప్రశ్నకు 1 మార్కు.

5. క్రింది వాటిని అవి జరిగిన కాలక్రమంలో వ్రాయండి.
 - i) రాష్ట్రాల పునర్విరాణ చట్టం
 - ii) మొదటి సాధారణ ఎన్నికలు
 - iii) బంగ్లాదేశ్ యుద్ధం
6. సంకీర్ణ ప్రభుత్వము అంటే ఏమిటి? 7. ఓటు ప్రాధాన్యత పై రెండు నినాదాలు రాయండి. 8. బహుళ పంటల సాగు అంటే ఏమిటి?

4 x 1 = 4

ఇ) క్రింది ప్రశ్నలకు 2 వాక్యాలలో సమాధానమిమ్ము. ఒక్కొక్క ప్రశ్నకు 2 మార్కులు.

3 x 2 = 6

9. మీ ప్రాంతంలోని ఏదైన నాలుగు వ్యవసాయేతర పనులను తెలపండి.
10. "మొదటి పంచవర్ష ప్రణాళికా కాలంలో మూడు రకాల భూసంస్కరణలు అమలు చేయబడినవి" అవి ఏవి?

11 క్రింది కాలక్రమ పట్టికను చదివి, ఇచ్చిన ప్రశ్నలకు జవాబులు వ్రాయండి.

ఆర్థిక సరళీకరణ	1990
బాబ్రీమసీదు కూల్చివేత	1992
దేవెగోడ, IK గుజ్రాల్ ప్రధానమంతులుగా నేషనల్ ఫ్రంట్ ప్రభుత్వం	1996
అటల్ బిహారీ వాజ్‌పేయి నాయకత్వంలో NDA ప్రభుత్వం	1998

అ) ఆర్థిక సరళీకరణ ఎప్పుడు ప్రారంభమయింది?

ఆ) NDA ప్రభుత్వం ఎవరి నాయకత్వంలో ఏర్పడింది?


ఈ) క్రింది ప్రశ్నలకు 4 వాక్యాలలో సమాధానమిమ్ము. ఒక్కొక్క ప్రశ్నకు 4 మార్కులు.

4 x 2 = 8

12. అ) "ఎమర్జెన్సీ కాలంలో" భారత ప్రజాస్వామ్యం ఏ విధంగా వెనుకకు నెట్టబడింది? (లేదా)
ఆ) స్వాతంత్ర్యానంతర రెండవ దశలో పార్టీ వ్యవస్థలో ప్రధాన మార్పులను గుర్తించండి.
13. అ) భారతదేశ పటం నందు క్రింది వానిని గుర్తించండి. 1. పంజాబ్ 2. కోల్‌కత్తా 3. అస్సామ్ 4. లక్షదీవులు (లేదా)
ఆ) ప్రపంచ పటంలో క్రింది వానిని గుర్తించండి. 1. శ్రీలంక 2. ఇండోనేషియా 3. నైజీరియా 4. మధ్యధరా సముద్రం

అ) క్రింది ప్రశ్నలకు ఒక పదం లేదా ఒక వాక్యంలో పమాధానమిమ్ము. ఒక్కొక్క ప్రశ్నకు 1/2 మార్కు.

1. ఒక హెక్టారు ఎన్ని చదరపు మీటర్లకు సమానం? 2. ఇవ్వబడిన చిత్రంలోని వ్యక్తిని గుర్తించండి.
3. DMK : తమిళనాడు :: AGP : _____ . (ఖాళిని పూర్తి చెయ్యండి)
4. భారతదేశంలో టెలికమ్యూనికేషన్ విప్లవం ప్రారంభించిన వారు _____



4 x 1/2 = 2

ఆ) క్రింది ప్రశ్నలకు ఒక్క వాక్యంలో సమాధానమిమ్ము. ఒక్కొక్క ప్రశ్నకు 1 మార్కు.

5. క్రింది వాటిని అవి జరిగిన కాలక్రమంలో వ్రాయండి.
 - i) రాష్ట్రాల పునర్విరాణ చట్టం
 - ii) మొదటి సాధారణ ఎన్నికలు
 - iii) బంగ్లాదేశ్ యుద్ధం
6. సంకీర్ణ ప్రభుత్వము అంటే ఏమిటి? 7. ఓటు ప్రాధాన్యత పై రెండు నినాదాలు రాయండి. 8. బహుళ పంటల సాగు అంటే ఏమిటి?

4 x 1 = 4

ఇ) క్రింది ప్రశ్నలకు 2 వాక్యాలలో సమాధానమిమ్ము. ఒక్కొక్క ప్రశ్నకు 2 మార్కులు.

3 x 2 = 6

9. మీ ప్రాంతంలోని ఏదైన నాలుగు వ్యవసాయేతర పనులను తెలపండి.
10. "మొదటి పంచవర్ష ప్రణాళికా కాలంలో మూడు రకాల భూసంస్కరణలు అమలు చేయబడినవి" అవి ఏవి?

11 క్రింది కాలక్రమ పట్టికను చదివి, ఇచ్చిన ప్రశ్నలకు జవాబులు వ్రాయండి.

ఆర్థిక సరళీకరణ	1990
బాబ్రీమసీదు కూల్చివేత	1992
దేవెగోడ, IK గుజ్రాల్ ప్రధానమంతులుగా నేషనల్ ఫ్రంట్ ప్రభుత్వం	1996
అటల్ బిహారీ వాజ్‌పేయి నాయకత్వంలో NDA ప్రభుత్వం	1998

అ) ఆర్థిక సరళీకరణ ఎప్పుడు ప్రారంభమయింది?

ఆ) NDA ప్రభుత్వం ఎవరి నాయకత్వంలో ఏర్పడింది?

ఈ) క్రింది ప్రశ్నలకు 4 వాక్యాలలో సమాధానమిమ్ము. ఒక్కొక్క ప్రశ్నకు 4 మార్కులు.

4 x 2 = 8

12. అ) "ఎమర్జెన్సీ కాలంలో" భారత ప్రజాస్వామ్యం ఏ విధంగా వెనుకకు నెట్టబడింది? (లేదా)
ఆ) స్వాతంత్ర్యానంతర రెండవ దశలో పార్టీ వ్యవస్థలో ప్రధాన మార్పులను గుర్తించండి.
13. అ) భారతదేశ పటం నందు క్రింది వానిని గుర్తించండి. 1. పంజాబ్ 2. కోల్‌కత్తా 3. అస్సామ్ 4. లక్షదీవులు (లేదా)
ఆ) ప్రపంచ పటంలో క్రింది వానిని గుర్తించండి. 1. శ్రీలంక 2. ఇండోనేషియా 3. నైజీరియా 4. మధ్యధరా సముద్రం