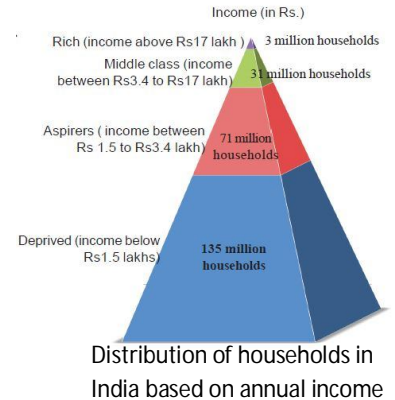
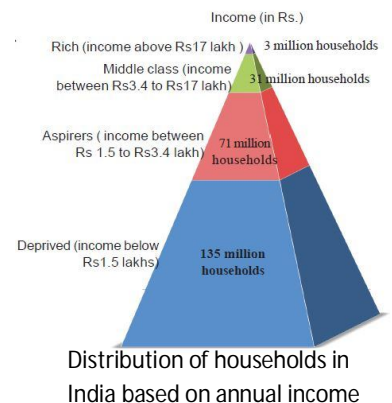


- I. Write the answers for the following questions in a word or phrase. Each question carries ½ Mark. 4 x ½ = 2
1. The ability of environment to absorb and render harmless waste and pollution is described as _____
 2. The book "Silent Spring" was written by _____
 3. The headquarters of 'Greenpeace' is _____
 4. Who is the responsible officer for providing information in each government office under RTI _____
- II. Write the answers for the following questions in two sentences. Each question carries 1 mark. 4 x 1 = 4
5. What is sustainable development?
 6. What is information according to RTI?
 7. Write about 'chipko andolan'?
 8. What do you know about Bhopal gas disaster?
- III. Write the answers for the following questions in four sentences. Each question carries 2 marks. 3 x 2 = 6
9. Write about Meira Paibi movement.
 10. 'RTI help to contain corruption and hold governments accountable to individual citizens also' comment.
 11. What are the basic features of social movements?
- IV. Write the answers for the following questions in eight sentences. 2 x 4 = 8
Each question carries 4 marks
12. (a) Observe the graph and write your observations. Or
(b) RTI Act resembles the true spirit of democracy. How do you justify.
13. (a) Mark the following on the outline map of India
1. The highest mountain peak in south India 2. Capital city of Uttar Pradesh
3. Manipur state 4. Aravali mountains Or
(b) Mark the following on the outline map of world
1. New York 2. Red Sea 3. Vietnam 4. Chile



- I. Write the answers for the following questions in a word or phrase. Each question carries ½ Mark. 4 x ½ = 2
1. The ability of environment to absorb and render harmless waste and pollution is described as _____
 2. The book "Silent Spring" was written by _____
 3. The headquarters of 'Greenpeace' is _____
 4. Who is the responsible officer for providing information in each government office under RTI _____
- II. Write the answers for the following questions in two sentences. Each question carries 1 mark. 4 x 1 = 4
5. What is sustainable development?
 6. What is information according to RTI?
 7. Write about 'chipko andolan'?
 8. What do you know about Bhopal gas disaster?
- III. Write the answers for the following questions in four sentences. Each question carries 2 marks. 3 x 2 = 6
9. Write about Meira Paibi movement.
 10. 'RTI help to contain corruption and hold governments accountable to individual citizens also' comment.
 11. What are the basic features of social movements?
- IV. Write the answers for the following questions in eight sentences. 2 x 4 = 8
Each question carries 4 marks
12. (a) Observe the graph and write your observations. Or
(b) RTI Act resembles the true spirit of democracy. How do you justify.
13. (a) Mark the following on the outline map of India
1. The highest mountain peak in south India 2. Capital City of Uttar Pradesh
3. Manipur state 4. Aravali mountains Or
(b) Mark the following on the outline map of world
1. New York 2. Red Sea 3. Vietnam 4. Chile



అ) క్రింది ప్రశ్నలకు ఒక పదం లేదా ఒక వాక్యంలో పమాధానమిమ్ము. ఒక్కొక్క ప్రశ్నకు 1/2 మార్కు.

4 x 1/2 = 2

1. కాలుష్యాన్ని పర్యావరణం గ్రహించి ప్రమాదరహితంగా మార్చగలిగే శక్తిని పర్యావరణం యొక్క ఏ విధిని తెలియజేస్తుంది
2. 'సైలెంట్ స్ప్రింగ్' (నిశబ్ద వనంతం) అన్న పుస్తకాన్ని రాసిన వారు ఎవరు?
3. 'గ్రీన్ పీస్' ప్రధాన కార్యాలయం ఎక్కడ ఉంది?
4. సమాచార హక్కు చట్టం ప్రకారం ప్రతి ప్రభుత్వ కార్యాలయంలో సమాచారాన్ని అందించడంలో బాధ్యత వహించే అధికారి ఎవరు?

ఆ) క్రింది ప్రశ్నలకు ఒక్క వాక్యంలో సమాధానమిమ్ము. ఒక్కొక్క ప్రశ్నకు 1 మార్కు.

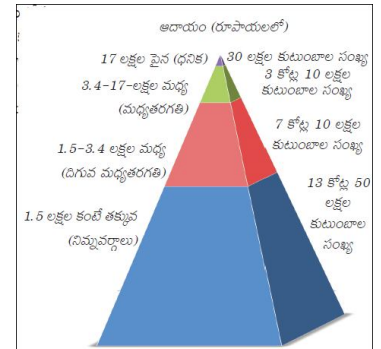
4 x 1 = 4

5. సుస్థిరాభివృద్ధి అంటే ఏమిటి?
6. సమాచార హక్కు చట్టం ప్రకారం 'సమాచారం' అంటే ఏమిటి?
7. చిప్కో ఉద్యమం గురించి రాయండి.
8. భోపాల్ గ్యాస్ దుర్ఘటన గురించి నీకేమి తెలుసు?

ఇ) క్రింది ప్రశ్నలకు 2 వాక్యాలలో సమాధానమిమ్ము. ఒక్కొక్క ప్రశ్నకు 2 మార్కులు.

3 x 2 = 6

9. మైరా పైబీ ఉద్యమం గురించి రాయండి.
10. 'అవినీతిని అరికట్టటానికి, ప్రభుత్వాలు ప్రతి ఒక్క పౌరునికి జవాబుదారీగా ఉంచటంలో సమాచార హక్కు చట్టం దోహదం చేస్తుంది'. వ్యాఖ్యానించుము.
11. సామాజిక ఉద్యమాల మౌలిక అంశాలు ఏమిటి?



ఈ) క్రింది ప్రశ్నలకు 4 వాక్యాలలో సమాధానమిమ్ము. ఒక్కొక్క ప్రశ్నకు 4 మార్కులు.

4 x 2 = 8

12. అ) పైన ఇవ్వబడిన "వార్షిక ఆదాయం ఆధారంగా కుటుంబాలు" గ్రాఫును పరిశీలించి మీ యొక్క పరిశీలనను రాయండి. (లేదా) ఆ సమాచార హక్కు చట్టం ప్రజాస్వామ్యానికి ఉన్న అసలైన స్ఫూర్తిని తెలియచేస్తుంది. దీనిని మీరు ఎలా సమర్థిస్తారు?
13. అ) భారతదేశ పటంలో క్రింది వానిని గుర్తించండి. 1. దక్షిణ భారతదేశంలో ఎత్తైన శిఖరం 2. ఉత్తర ప్రదేశ్ రాష్ట్ర రాజధాని 3. మణిపూర్ రాష్ట్రం 4. ఆరావళి పర్వతాలు (లేదా) ఆ) ప్రపంచ పటంలో క్రింది వాటిని గుర్తించండి. 1. న్యూయార్క్ 2. ఎర్ర సముద్రం 3. వియత్నాం 4. చిలీ

అ) క్రింది ప్రశ్నలకు ఒక పదం లేదా ఒక వాక్యంలో పమాధానమిమ్ము. ఒక్కొక్క ప్రశ్నకు 1/2 మార్కు.

4 x 1/2 = 2

1. కాలుష్యాన్ని పర్యావరణం గ్రహించి ప్రమాదరహితంగా మార్చగలిగే శక్తిని పర్యావరణం యొక్క ఏ విధిని తెలియజేస్తుంది
2. 'సైలెంట్ స్ప్రింగ్' (నిశబ్ద వనంతం) అన్న పుస్తకాన్ని రాసిన వారు ఎవరు?
3. 'గ్రీన్ పీస్' ప్రధాన కార్యాలయం ఎక్కడ ఉంది?
4. సమాచార హక్కు చట్టం ప్రకారం ప్రతి ప్రభుత్వ కార్యాలయంలో సమాచారాన్ని అందించడంలో బాధ్యత వహించే అధికారి ఎవరు?

ఆ) క్రింది ప్రశ్నలకు ఒక్క వాక్యంలో సమాధానమిమ్ము. ఒక్కొక్క ప్రశ్నకు 1 మార్కు.

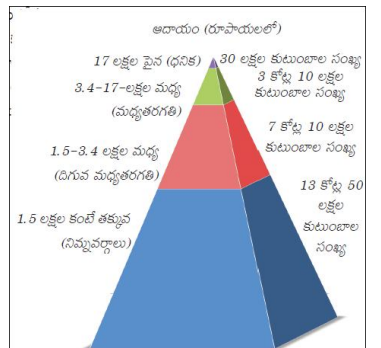
4 x 1 = 4

5. సుస్థిరాభివృద్ధి అంటే ఏమిటి?
6. సమాచార హక్కు చట్టం ప్రకారం 'సమాచారం' అంటే ఏమిటి?
7. చిప్కో ఉద్యమం గురించి రాయండి.
8. భోపాల్ గ్యాస్ దుర్ఘటన గురించి నీకేమి తెలుసు?

ఇ) క్రింది ప్రశ్నలకు 2 వాక్యాలలో సమాధానమిమ్ము. ఒక్కొక్క ప్రశ్నకు 2 మార్కులు.

3 x 2 = 6

9. మైరా పైబీ ఉద్యమం గురించి రాయండి.
10. 'అవినీతిని అరికట్టటానికి, ప్రభుత్వాలు ప్రతి ఒక్క పౌరునికి జవాబుదారీగా ఉంచటంలో సమాచార హక్కు చట్టం దోహదం చేస్తుంది'. వ్యాఖ్యానించుము.
11. సామాజిక ఉద్యమాల మౌలిక అంశాలు ఏమిటి?



ఈ) క్రింది ప్రశ్నలకు 4 వాక్యాలలో సమాధానమిమ్ము. ఒక్కొక్క ప్రశ్నకు 4 మార్కులు.

4 x 2 = 8

12. అ) పైన ఇవ్వబడిన "వార్షిక ఆదాయం ఆధారంగా కుటుంబాలు" గ్రాఫును పరిశీలించి మీ యొక్క పరిశీలనను రాయండి. (లేదా) ఆ సమాచార హక్కు చట్టం ప్రజాస్వామ్యానికి ఉన్న అసలైన స్ఫూర్తిని తెలియచేస్తుంది. దీనిని మీరు ఎలా సమర్థిస్తారు?
13. అ) భారతదేశ పటంలో క్రింది వానిని గుర్తించండి. 1. దక్షిణ భారతదేశంలో ఎత్తైన శిఖరం 2. ఉత్తర ప్రదేశ్ రాష్ట్ర రాజధాని 3. మణిపూర్ రాష్ట్రం 4. ఆరావళి పర్వతాలు (లేదా) ఆ) ప్రపంచ పటంలో క్రింది వాటిని గుర్తించండి. 1. న్యూయార్క్ 2. ఎర్ర సముద్రం 3. వియత్నాం 4. చిలీ